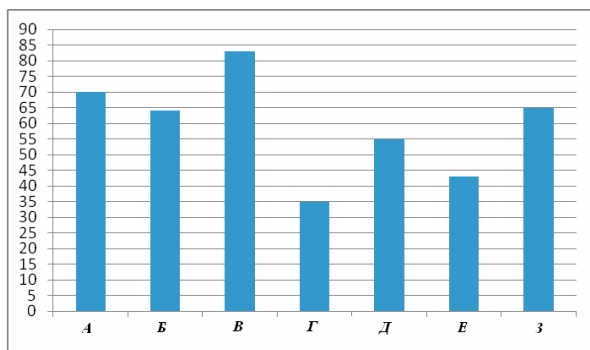


Контрольная работа по вероятности и статистике. 7 класс

Вариант 1

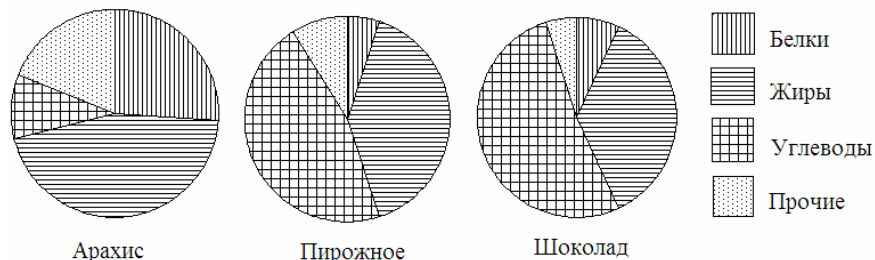
1 Рейтинговое агентство проводило опрос среди покупателей «Какой книжный магазин вам больше нравится?» Столбиковая диаграмма показывает рейтинги семи магазинов (в баллах) по результатам опроса.



По диаграмме определите:

- какой магазин получил наибольшее число голосов по результатам опроса;
- сколько магазинов набрало более 60 баллов?

2 На рисунке показаны три круговые диаграммы, отражающие содержание питательных веществ в трех разных продуктах.



- Определите, в каком из этих продуктов содержание белков наибольшее;
- определите, каких питательных веществ больше всего в шоколаде.

3 В таблице указано количество проданной минеральной воды (в тыс. бутылок) в весенние и летние месяцы за три года (по данным компании-производителя).

	2007	2008	2009
Март	100	105	111
Апрель	104	109	109
Май	112	110	119
Июнь	119	126	130
Июль	120	125	121
Август	110	120	127

- Вычислите медиану данных за все летние месяцы.
- Вычислите медиану данных за все весенние месяцы.
- Дайте возможное объяснение тому, что найденные показатели существенно отличаются друг от друга.

4 В лаборатории производится анализ крови. Содержание гемоглобина в крови вычисляется как среднее арифметическое результатов нескольких измерений.

Таблица содержит результаты пяти измерений гемоглобина (г/л) в одной пробе крови пациентки.

Номер измерения	1	2	3	4	5
Содержание гемоглобина (г/л)	130	140	110	50	120

- Найдите среднее арифметическое результатов измерений;
- Найдите дисперсию измерений.

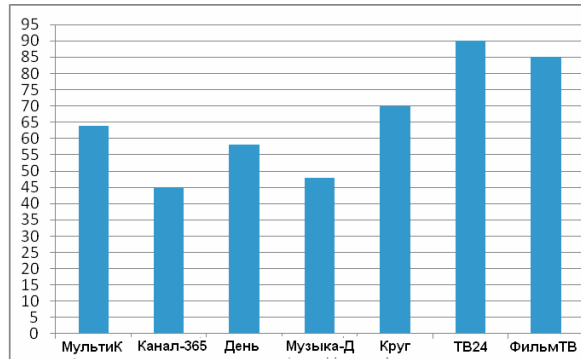
Выбрано правило: если квадрат отклонения некоторого значения от среднего арифметического превышает дисперсию больше чем в 3,5 раза, то это значение считается ненадежным (выбросом) и в дальнейшем не учитывается.

- Определите, является ли значение 50 ненадежным в соответствии с выбранным правилом.
- Найдите среднее арифметическое всех надежных значений.
- Нормальное содержание гемоглобина в крови у женщин 120–150 г/л. Можно ли считать, что у данной пациентки нормальное содержание гемоглобина?

5 В школе два седьмых класса. В первом 20 учеников, и их средний рост равен 159 см. Во втором – 30 учеников, их средний рост равен 154 см. Найдите средний рост всех семиклассников школы.

Вариант 2

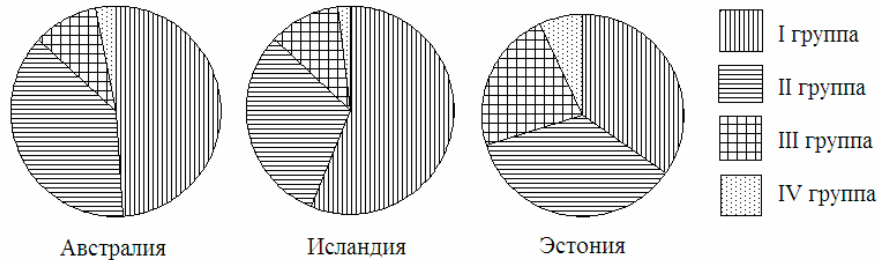
- 1 Рейтинговое агентство проводило опрос среди телезрителей «Какой телеканал Вам больше нравится?» На диаграмме показаны рейтинги семи телевизионных каналов (в баллах) по результатам опроса.



По диаграмме определите:

- какой канал получил наименьшее число голосов по результатам опроса;
- сколько каналов набрали менее 50 баллов?

- 2 Круговые диаграммы показывают распределение населения по группам крови в трех странах.



- Определите, в какой из этих стран наибольшая доля людей с III группой крови.
- определите, какая группа крови наиболее распространена в Австралии.

- 3 В таблице указано количество проданных порций мороженого (в тыс. штук) в летние и осенние месяцы за три года (по данным компании-производителя).

	2006	2007	2008
Июнь	802	822	843
Июль	817	899	915
Август	507	558	543
Сентябрь	450	495	500
Октябрь	225	248	254
Ноябрь	211	374	411

- Вычислите медиану данных за все летние месяцы.
- Вычислите медиану данных за все осенние месяцы.
- Дайте возможное объяснение тому, что найденные показатели отличаются друг от друга.

- 4 В лаборатории производится анализ крови. Содержание сахара в крови вычисляется как среднее арифметическое результатов нескольких измерений.

Таблица содержит результаты пяти измерений содержания сахара (г/л) в одной пробе крови взрослого пациента.

Номер измерения	1	2	3	4	5
Содержание сахара (г/л)	120	180	110	90	100

- Найдите среднее арифметическое результатов измерений;
- Найдите дисперсию результатов измерений.

Выбрано правило: если квадрат отклонения значения от среднего арифметического превышает дисперсию больше чем в 3,5 раза, то это значение считается ненадежным (выбросом) и в дальнейшем не учитывается.

- Определите, является ли значение 180 ненадежным в соответствии с выбранным правилом.
- Найдите среднее арифметическое всех надежных значений.
- Нормальное содержание сахара в крови взрослого 80–110 г/л. Можно ли считать, что у данного пациента нормальное содержание сахара в крови?

- 5 В школе два восьмых класса. В первом 30 учеников, и их средний рост равен 162 см. Во втором – 20 учеников, их средний рост равен 157 см. Найдите средний рост всех восьмиклассников школы.